









Einfache Tauschaufgaben




Löse die Aufgaben und schreibe die richtigen Zahlen in die Kästchen.





 $\boxed{4} + \boxed{2} = \boxed{6}$


 $\boxed{2} + \boxed{4} = \boxed{6}$


 $\boxed{} + \boxed{} = \boxed{}$


 $\boxed{} + \boxed{} = \boxed{}$


 $\boxed{} + \boxed{} = \boxed{}$


 $\boxed{} + \boxed{} = \boxed{}$


 $\boxed{} + \boxed{} = \boxed{}$


 $\boxed{} + \boxed{} = \boxed{}$


 $\boxed{} + \boxed{} = \boxed{}$


 $\boxed{} + \boxed{} = \boxed{}$

Finde selber noch weitere Tauschaufgaben und schreibe Sie auf!