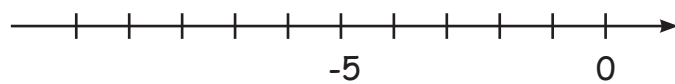


Negative Zahlen addieren und subtrahieren

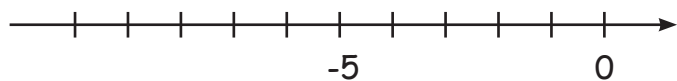
Stelle die folgenden Rechenaufgaben auf dem Zahlenstrahl dar!



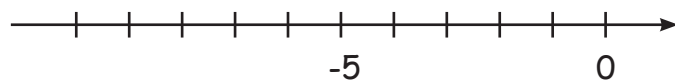
-6 + 3 = -3



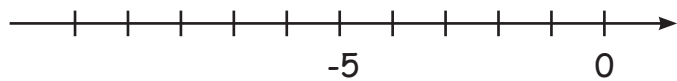
-9 + 5 =



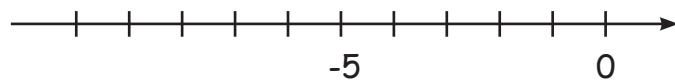
-4 - 4 =



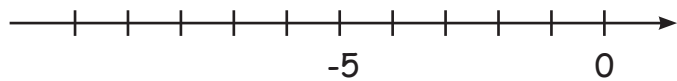
-3 + 3 =



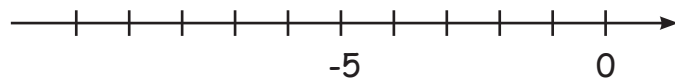
-6 - 3 =



-2 - 8 =

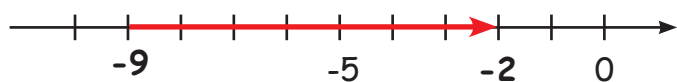


-8 + 4 =

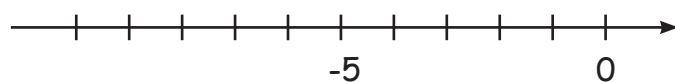


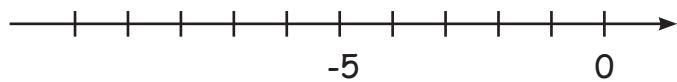
-7 + 4 =

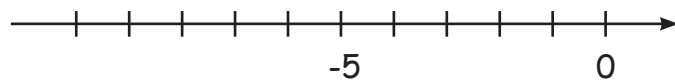
Schreibe die Rechenaufgabe, die auf dem Zahlenstrahl dargestellt wird, auf die Zeilen!

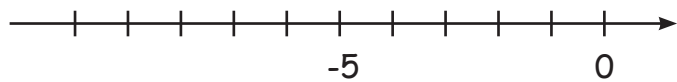


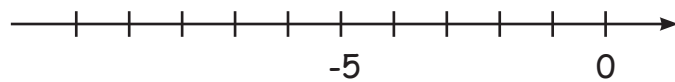
-9 + 7 = -2

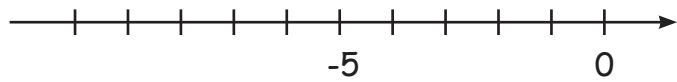


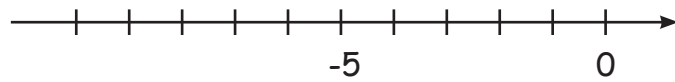












Negative Zahlen addieren und subtrahieren

Berechne die Aufgaben! Für jede richtige Antwort gibt es einen Lösungsbuchstaben.
Trage sie der Reihe nach unten in das Lösungsfeld ein!

- a.) $-4 + 6 =$ _____ f.) $-14 + 13 =$ _____ k.) $-24 - 26 =$ _____
 b.) $-9 + 22 =$ _____ g.) $-18 + 8 =$ _____ l.) $-27 + 32 =$ _____
 c.) $-8 - 6 =$ _____ h.) $15 - 25 =$ _____ m.) $-28 + 21 =$ _____
 d.) $9 - 17 =$ _____ i.) $12 - 24 =$ _____ n.) $32 - 35 =$ _____
 e.) $8 - 12 =$ _____ j.) $20 - 31 =$ _____ o.) $-36 + 42 =$ _____
 p.) $-45 - 11 =$ _____



--	--	--	--	--	--	--	--	--	--	--	--	--	--	--	--	--	--	--	--