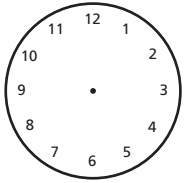


## Zeiteinheiten: Stunden - Minuten



### 1. Uhrzeiger eintragen:

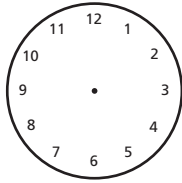
Zeichne die Uhrzeiger ein. Schreib auch die zweite Uhrzeit wie im Beispiel hin.



19.10 Uhr

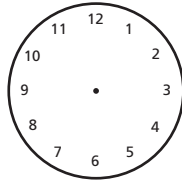
oder

7.10 Uhr



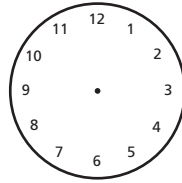
16.45 Uhr

oder



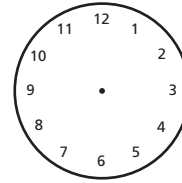
10.20 Uhr

oder



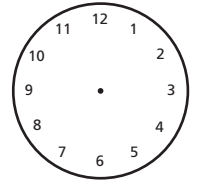
14.55 Uhr

oder



20.05 Uhr

oder

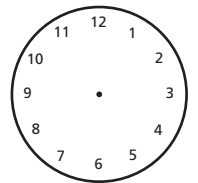
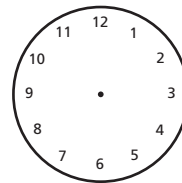
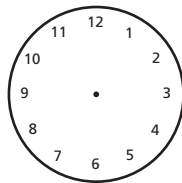
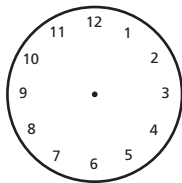
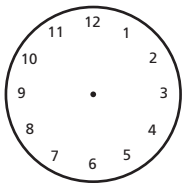
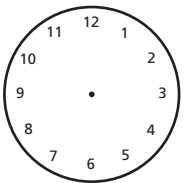


11.30 Uhr

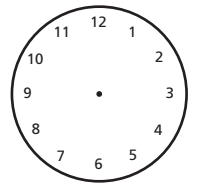
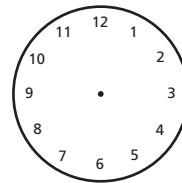
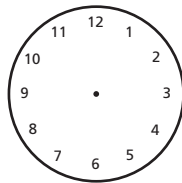
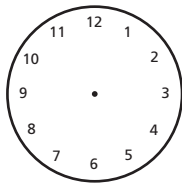
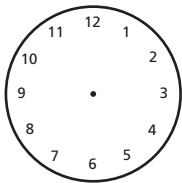
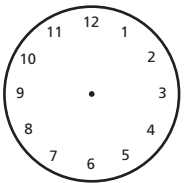
oder

### 2. Der Radio hat eine Digitalanzeige. Zeichne die Zeitangaben in die Uhren ein.

15 : 35    03 : 20    23 : 15    19 : 40    20 : 55    09 : 10



06 : 55    10 : 05    22 : 25    18 : 30    17 : 15    14 : 50



### 3. Rechne folgende Aufgaben:

a.) Rudi fährt mit dem Rad 17 min länger als 2 Stunden. Wie lange fährt Rudi mit dem Rad?

b.) Denise arbeitet 8 min weniger als 1 h. Wie lange hat sie gearbeitet?

c.) Marion kocht 20 min länger als 1 h. Wie lange hat Marion gekocht?

d.) Papa schaut 37 min fern. Vor dem PC verbringt er 1 h 23 min. Berechne den Zeitunterschied.

e.) Für die Urlaubsreise braucht Familie Maier 198 min. Wandle in h und min um.

f.) Zum Wäsche waschen braucht Mutti 14 min. Wie lange ist die Waschmaschine in Betrieb, wenn Mutti die Waschmaschine 4 mal starten muss? Dauert dies länger als 1 h?