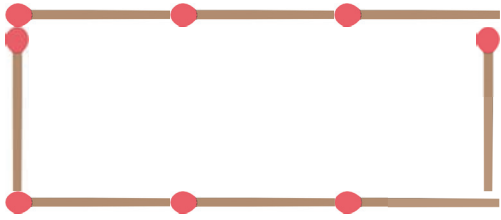
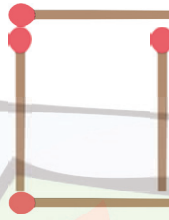


Calculer les périmètres

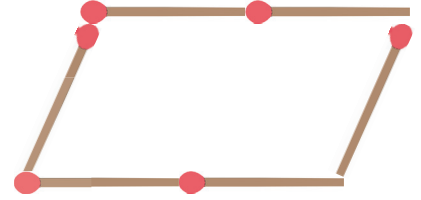
1 Regarde bien les figures. Combien d'allumettes sont utilisées pour les pourtours ?



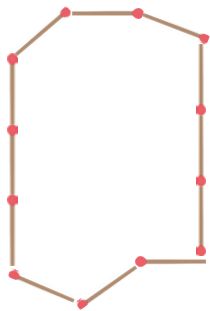
8



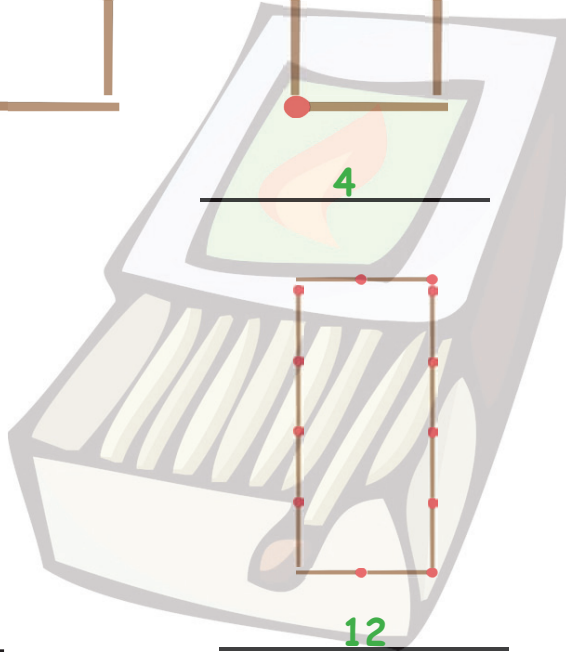
4



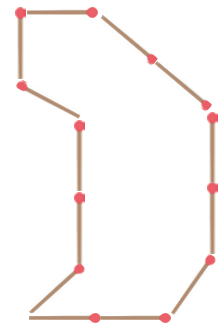
6



12




12




13

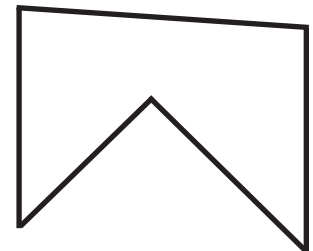
2 Mesure le périmètre avec une règle et inscris le résultat en mm !



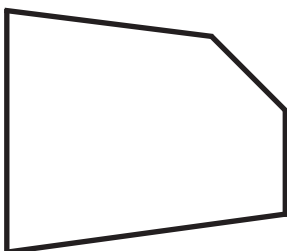
150 mm



133 mm



156 mm




124 mm



112 mm



106 mm



Calculer les périmètres

- 3 Comme devoirs à la maison, Anna doit calculer des périmètres. Contrôles les résultats d'Anna et souligne ceux qui sont justes !

$$\begin{array}{l} L = 5 \text{ cm} \\ l = 6 \text{ cm} \\ \hline P = 22 \text{ cm} \end{array}$$

$$\begin{array}{l} L = 8 \text{ m} \\ l = 2 \text{ m} \\ \hline P = 10 \text{ m} \end{array}$$

$$\begin{array}{l} L = 14 \text{ cm} \\ l = 6 \text{ cm} \\ \hline P = 37 \text{ cm} \end{array}$$

$$\begin{array}{l} \text{coté} = 5 \text{ dm} \\ \hline P = 30 \text{ dm} \end{array}$$

$$\begin{array}{l} L = 5 \text{ m} \\ l = 20 \text{ m} \\ \hline P = 50 \text{ m} \end{array}$$

$$\begin{array}{l} L = 12 \text{ mm} \\ l = 15 \text{ mm} \\ \hline P = 54 \text{ mm} \end{array}$$

$$\begin{array}{l} \text{côté} = 9 \text{ dm} \\ \hline P = 36 \text{ dm} \end{array}$$

$$\begin{array}{l} L = 16 \text{ cm} \\ l = 18 \text{ cm} \\ \hline P = 44 \text{ cm} \end{array}$$

$$\begin{array}{l} L = 24 \text{ m} \\ l = 5 \text{ m} \\ \hline P = 58 \text{ m} \end{array}$$

$$\begin{array}{l} \text{côté} = 12 \text{ mm} \\ \hline P = 48 \text{ mm} \end{array}$$

- 4 Sind die folgenden Umfangsberechnungen richtig oder falsch? Wenn sie falsch sind, schreibe auf, welcher Fehler gemacht wurde!

$$\begin{array}{l} L = 22 \text{ cm} \\ l = 12 \text{ cm} \\ \hline \end{array}$$

Le périmètre fait 34 cm.

On additionne bien la longueur et largeur.

mais on a oublié de multiplier par 2 !

$$\begin{array}{l} L = 17 \text{ m} \\ l = 9 \text{ m} \\ \hline \end{array}$$

Le périmètre fait 43 m.

On ne multiplie pas la largeur x 2.

$$\begin{array}{l} L = 34 \text{ mm} \\ l = 16 \text{ mm} \\ \hline \end{array}$$

Le périmètre fait 10 cm.

correct