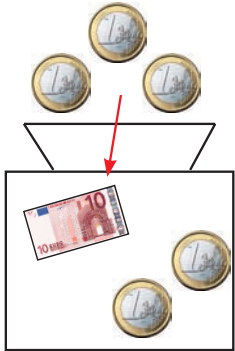
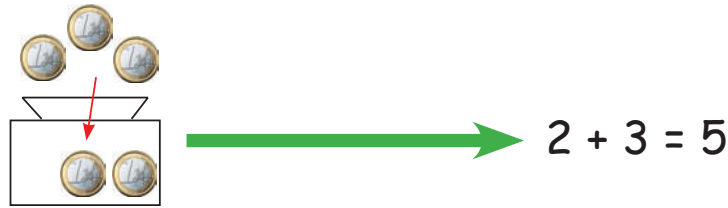
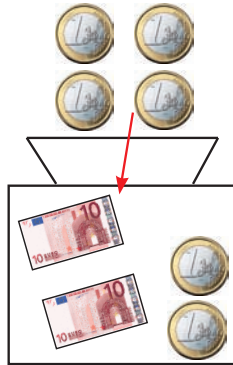


Calculer avec des billets et pièces

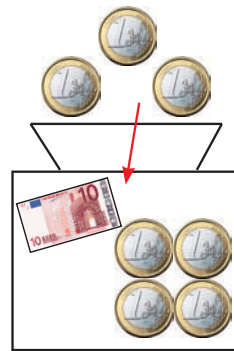
Additionne :



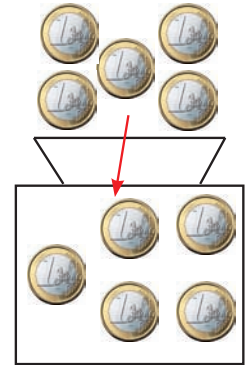
$12 + 3 = \underline{15}$



$22 + 4 = \underline{26}$



$14 + 3 = \underline{17}$



$5 + 5 = \underline{10}$

Recevoir de l'argent en retour à la caisse :



Jean paie avec :



Il reçoit en retour :

$10 - \underline{5} = 5$



Anne paie avec :



Elle reçoit en retour :

$20 - \underline{4} = 16$



Alex paie avec :



Il reçoit en retour :

$30 - \underline{7} = 23$