


# ROI DE L'ÉPARGNE

Jean a économisé une partie de son argent de poche et à 24 € dans sa tirelire.  
Maintenant il aimerait s'acheter quelques bricoles.

Il va dans un magasin de jouets qui propose des promotions.  
Additionne les différentes offres et regarde si Jean a assez d'argent pour payer ou pas.



Coche la bonne réponse.



			Oui	Non
Offre 1	peluche 12 €	crayons coloriage 11 €	X	
Offre 2	pistolet à eau 25 €	cartes à jouer 3 €		
Offre 3	Monopoly 21 €	voiture 2 €		
Offre 4	balle de foot 19 €	ballons à eau 3 €		
Offre 5	livre d'images 9 €	balles de tennis 10 €		
Offre 6	Puzzle 15 €	Lego 14 €		



Il rencontre sa camarade de classe Amandine. Elle a économisé 34 €.  
Quelle offre peut-elle s'offrir ? Coche les bonnes réponses.



			Oui	Non
Offre 1	poupée 18 €	habits de poupée 12 €		
Offre 2	dauphin 23 €	trousse 6 €		
Offre 3	coffre à jouets 28 €	raquette 14 €		
Offre 4	Barbie 21 €	robe 14 €		
Offre 5	livre de coloriage 7 €	corde à sauter 11 €		
Offre 6	peluche 13 €	Playmobil 19 €		